

शाळेचे नाव \_\_\_\_\_

संकलित मूल्यमापन (प्रथम सत्र) २०२३-२०२४

इयत्ता - २ री

विषय - MATH

एकूण गुण - २०

विद्यार्थ्याचे नाव :- \_\_\_\_\_

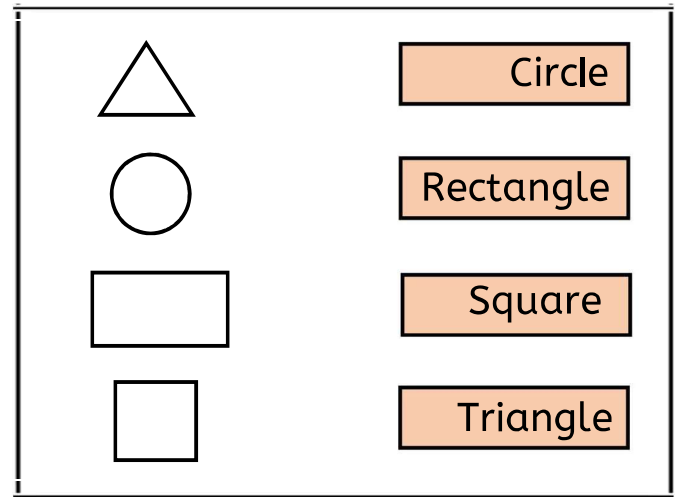
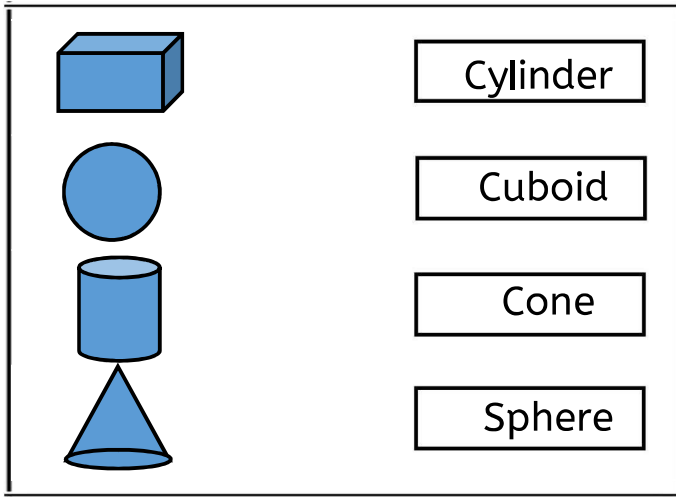
हजेरी क्रमांक -

दि. / / २०२३

मिळालेले गुण -

1) Match the pairs: जोड्या जुळव. Marks 2

2) Match the pairs : Marks 2



3) Write the numbers in words:

खालील संख्या अक्षरांत लिही. Marks 1

38 - \_\_\_\_\_

62 - \_\_\_\_\_

4) Write the numbers in figures:

खालील संख्या अंकांत लिही. Marks 1

Sixty seven -

Ninety nine -

5) Write the expanded forms:

विस्तारित रूपात लिही. Marks 1

73 =  +

54 =  +

6) Write the place value :

अधोरेखित अंकाची स्थानिक किंमत लिही. Marks 1

8 6 =

9 1 =

7) Name of the months that have 30 days :

३० दिवस असणाऱ्या महिन्यांची नावे लिही.

Marks 2

\_\_\_\_\_

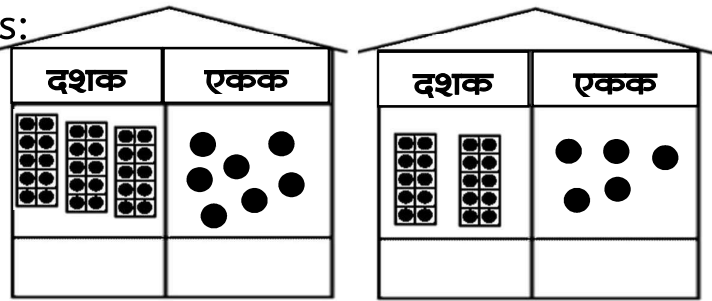
\_\_\_\_\_

8) Count and write numbers:

Marks 1

वस्तू मोज आणि

संख्या लिही.



9) Add : खालील बेरीज कर. Marks 2

10) Subtraction : वजाबाकी कर. Marks 2

$$\begin{array}{r} 45 \\ + 32 \\ \hline \end{array}$$

$$\begin{array}{r} 23 \\ + 5 \\ \hline \end{array}$$

$$\begin{array}{r} 69 \\ - 20 \\ \hline \end{array}$$

$$\begin{array}{r} 34 \\ - 3 \\ \hline \end{array}$$

11) Fill in the blanks : रिकाम्या जागा भर. फक्त २

Marks 2

- 1) How many times do we see the digit 0, | 2) 1 week =  days.  
In the numbers from 1 to 100.  | 3) 1 year =  months.

12) Write the numbers that come in steps of 4 :

Marks 1

४ च्या टप्प्याने येणाऱ्या संख्या लिही. येणारी संख्या लिही.

3, 7, 11, 15, , ,

13) Read the problems and solve : खालील उदाहरणे सोडव.

Marks 2

1) There were 24 books in a cupboard.

and 12 more were placed in it. How many books are there in the cupboard now?

Tens	Units

2) Vaishali had brought 54 beads.

She gave 21 beads to Riya, How many beads are left with Vaishali now ?

Tens	Units